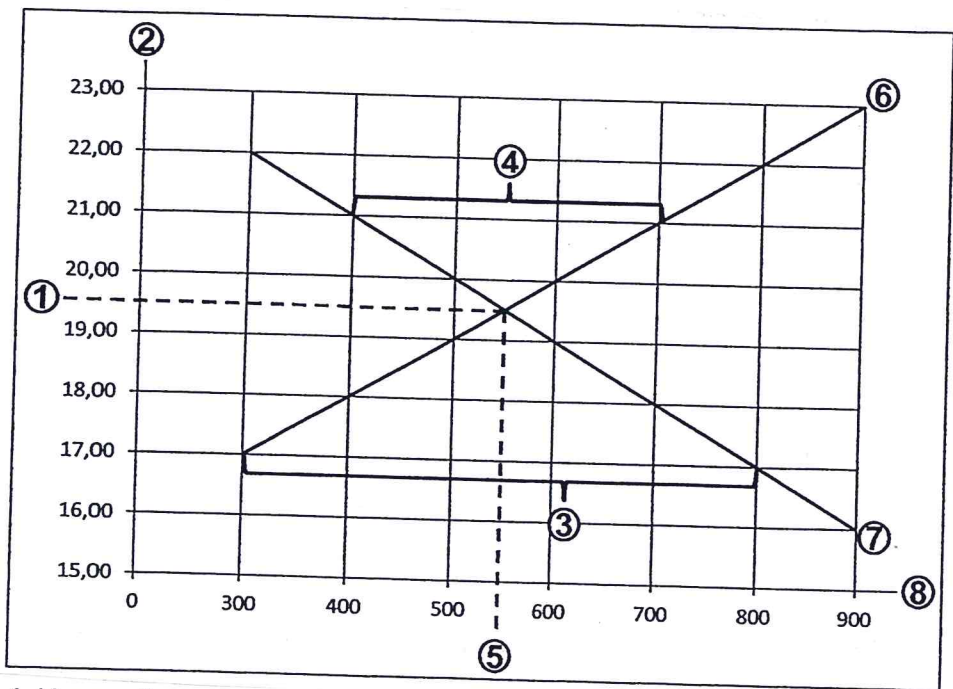


Von den folgenden Aufgaben beziehen sich mehrere auf die Süddeutsche Hausgeräte GmbH. Beachten Sie bei diesen Aufgaben bitte die abgebildete Unternehmensbeschreibung und versetzen Sie sich in die Situation eines Mitarbeiters/einer Mitarbeiterin:

Anlage Bl. 1

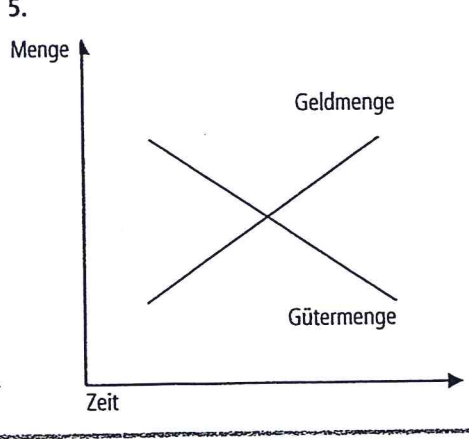
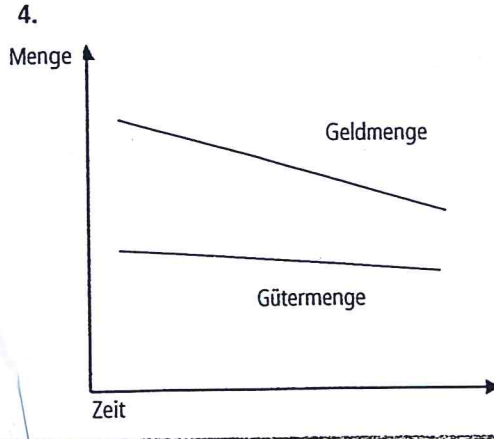
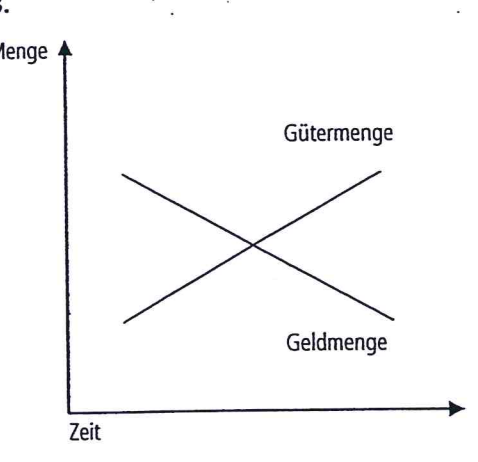
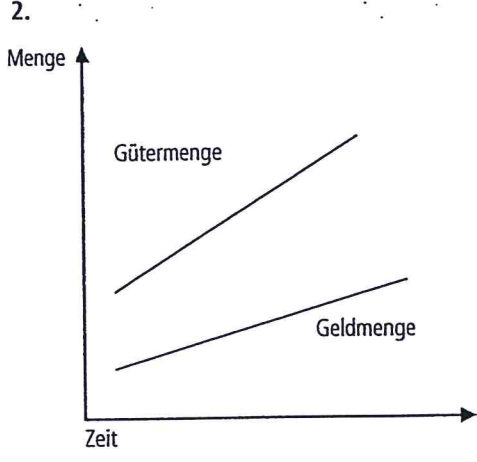

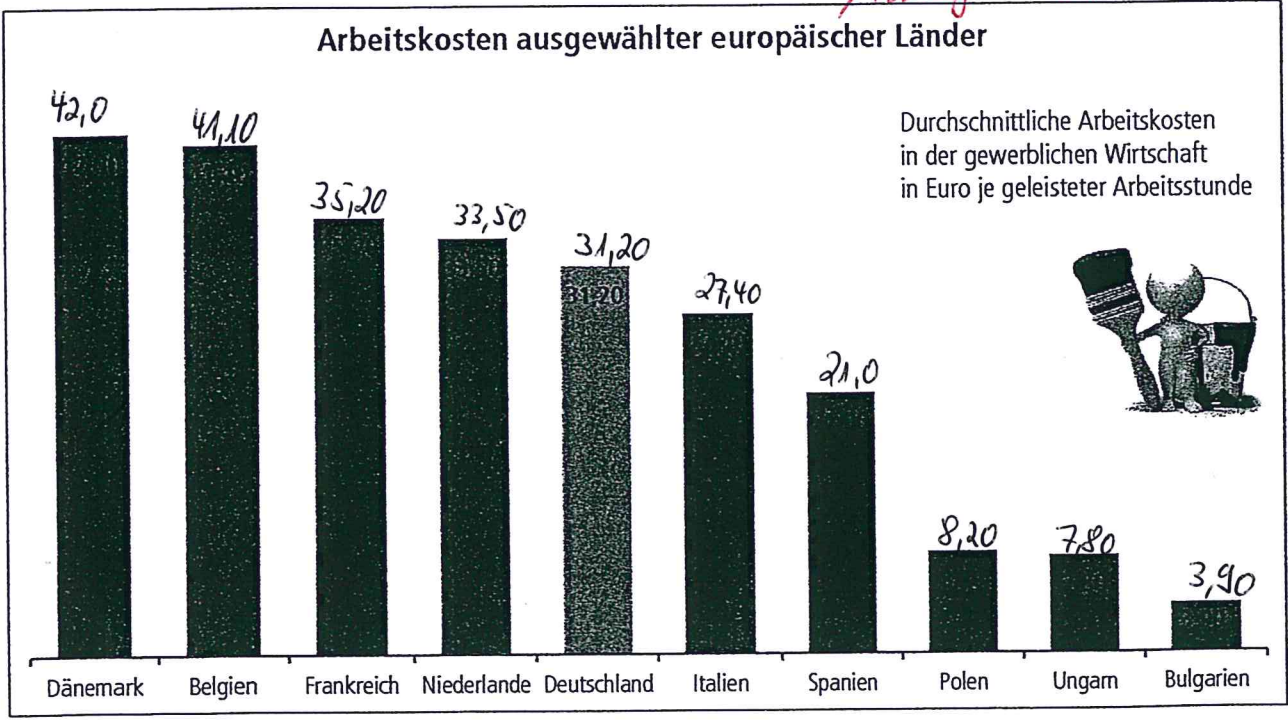
1. Firma Geschäftssitz Registergericht	Süddeutsche Hausgeräte GmbH Westerwaldstraße 99, 65549 Limburg Amtsgericht Limburg HRB 5471
2. Unternehmensgegenstand	Herstellung und Vertrieb von Haushaltsgeräten
3. Bankverbindung	Kreditbank AG, IBAN: DE01 5132 0188 0000 0011 12, BIC: KREBKDE1K01
4. Mitarbeiter/-innen	140
5. Bilanzsumme	20.000.000,00 EUR
6. Umsatz	45.000.000,00 EUR
7. Gesellschafter/ Geschäftsanteile	Peter Ahrens / 20.000,00 EUR Franz Borke / 10.000,00 EUR Petra Canis / 20.000,00 EUR Die Geschäftsanteile wurden in voller Höhe eingezahlt.
8. Geschäftsführer	Franz Borke (gleichzeitig Gesellschafter) Norbert Doreth Beide Geschäftsführer haben Einzelvertretungsbefugnis.
9. Prokuristen	Rüdiger Klein (Einzelprokura) Sabine Müller (Gesamtprokura) Franz Schramm (Gesamtprokura)



*Anlage
Aufgabe 18*

- | | | |
|----------------------------|-------------------------|-------------------------|
| 1. Menge = 8 | Gleichgewichtspreis = 1 | Nachfrageüberhang = 4 |
| 2. Gleichgewichtspreis = 5 | Nachfragekurve = 7 | Menge = 8 |
| 3. Gleichgewichtsmenge = 1 | Nachfragekurve = 6 | Angebotsüberhang = 4 |
| 4. Preis = 2 | Angebotskurve = 6 | Nachfrageüberhang = 3 |
| 5. Nachfragekurve = 6 | Angebotsüberhang = 3 | Gleichgewichtspreis = 1 |

Anlage zu 25



Anlage zu
Aufgaben 30 + 31